

**ВОПРОСЫ НА ВЫБОР ВАРИАНТА ОТВЕТА**

1. Фрагмент какого элемента пользовательского интерфейса Excel 2007 изображён на рисунке?



- а. Строка состояния
- б. Панель быстрого доступа
- в. Строка формул
- г. Таблица

2. Каково назначение указанной кнопки в Word 2007?



- а. Изменение интервалов между строками текста
- б. Выравнивание текста по центру
- в. Уменьшение или увеличение размера шрифта
- г. Сортировка выделенного текста

3. Как называется программное или аппаратное обеспечение, которое препятствует несанкционированному доступу на компьютер?

- а. Сервер
- б. Браузер
- в. Брандмауэр
- г. Архиватор

4. World Wide Web – это служба Интернет, предназначенная для:

- а. Поиска и просмотра гипертекстовых документов, включающих в себя графику, звук и видео
- б. Передачи файлов
- в. Передачи электронных сообщений
- г. Общения в реальном времени с помощью клавиатуры

5. Какой из перечисленных ниже адресов является поисковой системой?

- а. <http://www.letitbit.net>
- б. <http://www.vk.com>
- в. <http://www.narod.yandex.ru>
- г. <http://www.google.ru>

6. В электронной таблице Excel значение формулы =СУММ(B1:B2) равно 5. Чему равно значение ячейки B3, если значение формулы =СРЗНАЧ(B1:B3) равно 3?

- а. 4
- б. 2
- в. 3
- г. 8

7. Какие из нижеперечисленных программ НЕ являются прикладными?

- а. Антивирусные программы
- б. Системы автоматизированного проектирования
- в. Экспертные системы
- г. Геоинформационные системы

8. В табличном процессоре Excel диапазон ячеек выглядит следующим образом:

- а. A1:B1
- б. A1/B1
- в. A1+B1
- г. A1-B1

9. Студент приобрел некоторые компьютерные устройства: джойстик, процессор, оперативную память, наушники. Укажите соответствие приобретенных устройств их функции. В ответе укажите последовательность букв в порядке, котором устройства перечислены.

- а. Ввод информации
- б. Обработка информации
- в. Хранение информации
- г. Вывод информации

10. Криптографические методы защиты информации предполагают:

- а. Использование алгоритмов шифрования
- б. Установление специальных атрибутов файлов
- в. Автоматическое дублирование данных на двух автономных носителях
- г. Установление паролей на доступ к информации

11. Ниже в табличной форме представлен фрагмент базы данных. Сколько записей удовлетворяют условию: (Пол = «м») И (Дата рождения  $\geq$  01.07.1996 AND  $\leq$  31.12.1996)?

СТУДЕНТЫ					
Номер	Фамилия	Имя	Отчество	Пол	Дата рождения
16493	Сергеев	Петр	Михайлович	м	01.01.1996
16593	Морозова	Анна	Владимировна	ж	15.03.1996
16693	Анохин	Андрей	Борисович	м	24.02.1996
16793	Борисова	Мария	Михайловна	ж	14.04.1996
16893	Зайцев	Сергей	Александрович	м	29.07.1996
16993	Кравцов	Алексей	Иванович	м	09.09.1992
17093	Волкова	Светлана	Николаевна	ж	07.12.1991

- а. 4
- б. 3
- в. 1
- г. 5

12. Проверка полномочий пользователя при его обращении к данным называется:

- а. Контролем доступа
- б. Аутентификацией
- в. Обеспечением целостности данных
- г. Шифрованием

13. Дан фрагмент электронной таблицы:

	A	B	C
1	30	20	=A1-B\$1+20
2	40	10	

Какое значение появится в ячейке C2 после того, как ячейку C1 скопируют в ячейку C2?

- а. 50
- б. 40
- в. 30
- г. 20

14. Идентификатор некоторого ресурса сети Интернет имеет следующий вид: <http://www.olimpiada-profmast.ru/>. Какая часть этого идентификатора указывает на протокол, используемый для передачи ресурса?

- а. www
- б. olimpiada-profmast
- в. http
- г. ru

15. Дан фрагмент электронной таблицы:

	A	B	C	D
1	9	3	4	8
2	=C1-B1	=(A1-B1)/2		=B1*3-4

Какая из приведённых формул может быть записана в ячейке C2, чтобы построенная после выполнения вычислений круговая диаграмма по значениям диапазона ячеек A2:D2 соответствовала рисунку?



- а. =B1\*C1
- б. =D1-6
- в. =A1-B1
- г. =(A1+B1)/3

16. Определите название сети, если компьютеры одной организации, связанные каналами передачи информации для совместного использования общих ресурсов и периферийных устройств и находятся в одном здании:

- а. Региональной
- б. Территориальной
- в. Локальной
- г. Глобальной

17. Назовите функции информационно-поисковой системы:

- а. Осуществлять поиск, вывод и сортировку данных
- б. Осуществлять поиск и сортировку данных
- в. Редактировать данные и осуществлять их поиск
- г. Редактировать и сортировать данные





- 18.** Укажите, что обеспечивает система электронного документооборота:
- а. Массовый ввод бумажных документов
  - б. Управление электронными документами
  - в. Управление знаниями
  - г. Автоматизацию деловых процессов
- 19.** Выберите меры защиты, относящиеся к нормам поведения, которые традиционно сложились или складываются по мере распространения информационных технологий в обществе.
- а. Правовые (законодательные)
  - б. Организационные (административные и процедурные)
  - в. Технологические
  - г. Морально-этические
- 20.** Укажите назначение папки «Заметки»:
- а. Планирование личного расписания, встреч, событий и собраний
  - б. Информация о личных и деловых контактах
  - в. Планирование, ведение и учет задач
  - г. Создание различных примечаний
- 21.** Введение разделов в текстовый документ служит:
- а. Для изменения разметки документа на одной странице или на разных страницах
  - б. Для изменения разметки документа только на одной странице
  - в. Только для изменения порядка нумерации страниц документа
  - г. Для лучшей «читаемости» документа
- 22.** Типы данных в электронных таблицах MS Excel – это...
- а. Текст, число и формула
  - б. Текст и число
  - в. Константы, формулы и ошибки
  - г. Число и формула
- 23.** Медицинская автоматизированная информационная система – это...
- а. Совокупность программно-технических средств
  - б. Совокупность программно-технических средств, используемых в лечебно-профилактическом учреждении
  - в. База данных
  - г. Медицинская программа
- 24.** Автоматизированное рабочее место медицинского работника – это...
- а. Рабочее место, предназначенное для информационной поддержки
  - б. Рабочее место
  - в. Рабочее место, оснащенное средствами вычислительной техники для выполняемых профессиональных задач
  - г. Рабочее место, оборудованное программными средствами
- 25.** В текстовом редакторе набран текст:

«В НЕМ ПРОСТО НАХОДЯТСЯ ПРОЦЕДУРЫ ОБРОБОТКИ ДАТЫ И ВРЕМЕНИ ДНЯ, АНАЛИЗА СОСТОЯНИЯ МАГНИТНЫХ ДИСКОВ, СРЕДСТВА РОБОТЫ СО СПРАВОЧНИКАМИ И ОТДЕЛЬНЫМИ ФАЙЛАМИ».

Команда «Найти и заменить все» для исправления всех ошибок может иметь вид:

- а. Найти Р, заменить на РА
- б. Найти РО, заменить на РА
- в. Найти РОБ, заменить на РАБ
- г. Найти БРОБ, заменить на БРАБ

26. С помощью какой пиктограммы можно запустить программу MS Access?

а.	б.	в.	г.
			

27. Вид списка, который использовался для оформления текста, представленного ниже

<p><b><u>I. Общие знания</u></b></p> <ul style="list-style-type: none"> <li>✓ основные принципы организации здравоохранения;</li> <li>✓ основы медицинского страхования;</li> <li>✓ структура стоматологической помощи населению</li> </ul> <p><b><u>II. Общие умения</u></b></p> <ul style="list-style-type: none"> <li>➤ оформлять медицинскую документацию;</li> <li>➤ оказывать доврачебную помощь при неотложных состояниях</li> </ul>
---

- а. Нумерованный
- б. Маркированный
- в. Многоуровневый
- г. Комбинированный

28. По какому признаку классифицируются информационные системы, если они разделены на следующие классы:

- информационно-поисковые системы,
  - информационно-решающие системы,
  - управляющие информационные системы,
  - советующие информационные системы?
- а. По степени автоматизации
  - б. По отраслевому и территориальному признаку
  - в. По сфере применения
  - г. По характеру использования информации

29. Как называется комплекс программ, обеспечивающий управление аппаратными средствами компьютера, организующий работу с файлами и выполнение прикладных программ, осуществляющий ввод и вывод данных?

- а. Операционная система
- б. Программное обеспечение
- в. Система программирования
- г. Среда разработки

- 30.** В табличном процессоре Microsoft Excel выделена группа ячеек D2 : E3. Сколько ячеек входит в эту группу?
- 6
  - 4
  - 5
  - 3
- 31.** С помощью какого пункта меню можно выполнить фильтрацию данных в MS Excel 2013?
- Вид
  - Рецензирование
  - Правка
  - Данные
- 32.** При помощи какого пункта меню устанавливается разрешение переноса информации в ячейке по словам в MS Excel 2013?
- Правка-Заменить
  - Вставка-Ячейки
  - Сервис-Настройки
  - Главная – Выравнивание
- 33.** Элементарным объектом растровой графики является:
- То, что рисуется одним инструментом
  - Пиксель
  - Растр
  - Символ
- 34.** Какая из перечисленных ниже программ предназначена для создания буклетов, визиток?
- Microsoft Office Publisher
  - Microsoft Office Word
  - Microsoft Office Access
  - Microsoft Office Excel
- 35.** Вызов контекстного меню осуществляется:
- Нажатием клавиши [F9]
  - Выбором подменю главного меню
  - Нажатием правой кнопки мыши
  - Нажатием клавиши [F1]
- 36.** Выберите правильный вариант записи ip - адреса:
- 198.165.2,5.3
  - 198.02.03
  - 198.256.02.02
  - 198.021.1-3
- 37.** Какой кнопкой или их сочетанием прекратить показ слайдов и вернуться в режим редактирования в программе Microsoft PowerPoint?
- Tab
  - Alt + Shift
  - Enter
  - Esc

- 38.** Полное имя скопированного файла F.txt из диска C: каталога KR на диск D: в каталог SM каталога TP
- D:\TP\SM\KR\F.txt
  - D:\TP\SM\F.txt
  - D:\SM\TP\KR\F.txt
  - D:\SM\KR\TP\F.txt
- 39.** Что означает аббревиатура АСУ?
- Человеко-машинная система, в которых задача ПК состоит в предоставлении человеку необходимой информации для принятия решения
  - Информационные системы, основное назначение которых обработка и архивация больших объемов данных
  - Система управления устройствами, производственными установками, технологическими процессами, функционирующие без участия человека
  - Информационные системы автоматизированного создания эскизов, чертежей, схем
- 40.** В MS Access таблицы можно создать:
- В режиме конструктора, при помощи мастера, путем введения данных
  - В режиме проектировщика, мастера, планировщика
  - В режиме планировщика, конструктора, проектировщика
  - В режиме мастера таблиц, мастера форм, планировщика заданий
- 41.** Отчет в системах управления базами данных – это ...
- Объект, предназначенный для ввода данных
  - Элемент таблицы
  - Объект, который используется для вывода на экран, в печать или файл структурированной информации
  - Средство выбора необходимой информации из базы данных
- 42.** База данных содержит поля «Название», «Год выпуска», «Стоимость». Что будет найдено при поиске по условию: Год выпуска > 2012 AND Стоимость < 640000.
- Toyota Corolla, 2011, 620000
  - Mazda 3, 2014, 630000
  - Honda Accord, 2012, 640000
  - Skoda Octavia, 2014, 640000
- 43.** Какие поля необходимо заполнить для наиболее эффективного поиска документа ФГОС «Техническое обслуживание и ремонт автомобильного транспорта» в «Карточке поиска» системы «Консультант-Плюс»?
- Название документа и Тематика
  - Тематика и Вид документа
  - Тематика, Вид документа и Статус документа
  - Название документа, Тематика и Статус документа
- 44.** Файл \*.mdb используется для хранения:
- БД FoxPro
  - БД MS Access
  - Книги MS Excel
  - БД Lotus Notes

- 45.** В текстовом редакторе основными параметрами при задании параметров абзаца являются:
- Гарнитура, размер, начертание
  - Отступ, интервал
  - Поля, ориентация
  - Стиль, шаблон
  - Ни одно из выше перечисленного
- 46.** Компьютер, подключенный к сети Интернет, обязательно имеет:  
IP-адрес:
- WEB - сервер
  - Домашнюю WEB - страницу
  - Доменное имя
  - Ни одно из выше перечисленного
- 47.** В *MS Excel* ссылка D\$3:
- Не изменяется при автозаполнении
  - Изменяется при автозаполнении в любом направлении
  - Изменяется при автозаполнении вниз
  - Изменяется при автозаполнении вправо
  - В таком виде ссылка не указывается
- 48.** Что является основной информационной единицей базы данных?
- Запись
  - Таблица
  - Поле
  - Отчёт
- 49.** Региональная вычислительная сеть – это...
- Коммуникационная система, объединяющая абонентов, расположенных в различных странах
  - Коммуникационная система, которая связывает абонентов, расположенных на значительном расстоянии друг от друга
  - Коммуникационная система, которая объединяет абонентов, расположенных в пределах небольшой территории
  - Совокупность нескольких видов компьютерных сетей
- 50.** Главная управляющая программа (комплекс программ) на ЭВМ – это ...
- Операционная система
  - Прикладная программа
  - Графический редактор
  - Текстовый процессор
  - Вычислительная сеть
- 51.** Сеть, в которой объединены компьютеры в различных странах, на различных континентах – это...
- Глобальная сеть
  - Локальная сеть
  - Региональная сеть
  - Вычислительная сеть
- 53.** В каких из перечисленных режимов просмотра нельзя добавить текст на слайд:
- Обычный



- б. Сортировщик слайдов
  - в. Страницы заметок
  - г. Показ слайдов
- 54.** Объектом, позволяющим вносить формулы в документ, является:
- а. Microsoft Equation
  - б. Microsoft Excel
  - в. Microsoft Graph
  - г. Microsoft Access
- 55.** В состав системного блок ПК входят:
- а. Процессор, оперативная память, жёсткий магнитный диск
  - б. Монитор, оперативная память, винчестер
  - в. Клавиатура, монитор, системный блок
  - г. Винчестер, клавиатура, микропроцессор, bois
- 56.** Устройство для вывода из ПК графической информации (чертежей, графиков, схем, диаграмм) на бумаге различного формата (до А0) – это ...
- а. Принтер
  - б. Плоттер
  - в. Сканер
  - г. Дигитайзер
- 57.** Единица измерения тактовой частоты:
- а. Мегагерц
  - б. Килобайт
  - в. Гигабит
  - г. Мегабайт
- 58.** Автоматическое подчеркивание слова в документе MS Word красной волнистой линией означает:
- а. Синтаксическую ошибку
  - б. Неправильное согласование предложения
  - в. Орфографическую ошибку
  - г. Неправильно поставлены знаки препинания
- 59.** В ячейке H5 электронной таблицы записана формула  $=B5*V5$ . Какая формула будет получена из нее при копировании в ячейку H7?
- а.  $=B5*V7$
  - б.  $=B5*V5$
  - в.  $=B7*V7$
  - г.  $=B7*V7$
- 60.** Какие действия необходимо выполнить для изменения размера листа в программе КОМПАС?
- а. Сервис – параметры – система;
  - б. Сервис – параметры – новые документы
  - в. Сервис – параметры – текущий чертёж
  - г. Сервис – параметры – текущее окно
- 61.** Для построения окружности в графическом редакторе Paint необходимо во время построения нажать клавишу:

- а. Ctr
- б. Tab
- в. Shift
- г. Alt

62. Разгадайте ребус и выберите правильное определение полученного слова:



- а. Размер высоты буквы, включая нижние и верхние выносные элементы у этой буквы или знака
- б. Точка определённого цвета на экране компьютера.
- в. Совокупность цветов, используемых для выбора цвета
- г. Небольшой рисунок на мониторе, соответствующий некоторому объекту (файлу, приложению)

63. Производительность работы компьютера зависит от:

- а. Размера экрана дисплея
- б. Частоты процессора
- в. Напряжения питания
- г. Быстроты нажатия на клавиши

64. Из представленных фрагментов описания части web-страницы на языке HTML выберите тот, который описан верно.

- а. `<center>`  
`<B>`  
Привет олимпиаде!  
`</B>`  
`</center>`
- б. `</center>`  
`</B>`  
Привет олимпиаде!  
`<B>`  
`<center>`
- в. `<center>`  
`<B>`  
Привет олимпиаде!  
`</center>`
- г. `<center>`  
`<B>`  
Привет олимпиаде!  
`</center>`

</B>

- 65.** Определите, что такое поле базы данных:
- Строка таблицы
  - Столбец таблицы
  - Название таблицы
  - Свойство объекта
- 66.** Объектами в графическом редакторе Paint являются:
- Линия, круг, прямоугольник, текст
  - Выделение, копирование, вставка
  - Карандаш, кисть, ластик, ножницы
  - Набор цветов
- 67.** Информационно-поисковые системы позволяют:
- Осуществлять поиск, вывод и сортировку данных
  - Осуществлять поиск и сортировку данных
  - Редактировать данные и осуществлять их поиск
  - Редактировать и сортировать данные
- 68.** Достоверность данных – это...
- Отсутствие в данных ошибок
  - Надежность их сохранения
  - Их полнота
  - Их истинность
- 69.** В каком году Россия была подключена к Интернету?
- 1992
  - 1990
  - 1991
  - 1993
- 70.** Укажите самую важную часть компьютера:
- Набор системной логики
  - Аппаратные устройства
  - Центральный процессор
  - Оперативное запоминающее устройство
- 71.** Какое устройство может оказывать вредное воздействие на здоровье человека?
- Монитор
  - Принтер;
  - Системный блок
  - Модем
- 72.** Количество различных кодировок букв русского алфавита составляет:
- Одну (MS-DOS)
  - Две (MS-DOS, Windows)
  - Три (MS-DOS, Windows,)
  - Пять (MS-DOS, Windows, Macintosh, КОИ-8, ISO)
- 73.** Как называются отдельные программы, выполняющие служебные функции:
- Драйвера;
  - Утилиты;

- в. Файлы;
- г. Специальные файлы.

**ВСТАВИТЬ ПРОПУЩЕННОЕ СЛОВО**

1. Минимальным объект, используемый в растровом графическом редакторе, называется \_\_\_\_\_.

2. В электронных таблицах выделена группа ячеек A1:B3. В эту группу входит \_\_ ячеек. Ответ запишите цифрой.

3. В ячейке C1 электронной таблицы используется \_\_\_\_\_ тип данных.

	A	B	C	D
1			15,00р.	15,00%
2			16.04.1903	
3			15,00р.	
4				

4. \_\_\_\_\_ редактор – это программа, предназначена для создания, редактирования и форматирования текстовой информации.

5. \_\_\_\_\_ – графический редактор, предназначенный для создания и редактирования изображений.

6. MODEM – это устройство для \_\_\_\_\_ информации.

7. Программа для просмотра WEB-страниц называется \_\_\_\_\_.

8. Единицей обмена физического уровня сети является \_\_\_\_\_.

9. В электронной таблице выделена группа ячеек A1:C2. Определите сколько ячеек входит в эту группу. Запишите ответ: \_\_\_\_\_.

10. Основными функциями текстовых редакторов являются: редактирование текста, \_\_\_\_\_ текста, вывод текста на печать.

11. С какого знака начинается запись формулы в Excel (введите знак): \_\_\_\_\_.

12. Петабайт (Пбайт) равен \_\_\_\_\_ терабайтам (Тбайт).

13. В документе MS Word текст, расположенный между двумя символами ¶ называется \_\_\_\_\_.

14. В Microsoft PowerPoint 2013 стандартным расширением файла, содержащего обычную презентацию, является \_\_\_\_\_.

15. Основным элементом электронной таблицы MS Excel 2013 является \_\_\_\_\_.

16. \_\_\_\_\_ - устройство для автоматического считывания с бумажных носителей и ввода в компьютер машинописных текстов, графиков, рисунков, чертежей.

17. Диапазон A1:B5 содержит \_\_\_ ячеек. (Ответ записывается в числовой форме, например, 30 или 5)

18. В ячейках Excel заданы формулы:

A	B	C
6	=A1*2	= A1 +B1

Результатом вычислений в ячейке C1 будет: \_\_\_\_\_

19. В электронных таблицах выделена группа ячеек A1:C3. Сколько ячеек входит в эту группу? Запишите ответ: \_\_\_\_\_

20. Сетевая топология в которой все сегменты соединены между собой называется \_\_\_\_\_.

21. Для того, чтобы подключить библиотеку в программе КОМПАС необходимо воспользоваться меню \_\_\_\_\_.

22. Дан фрагмент электронной таблицы. Содержимое ячейки B2 рассчитано по формуле =\$A\$1\*A2. Запишите, как будет выглядеть формула, если ее скопировать в нижестоящую ячейку B3? Запишите ответ: \_\_\_\_\_

	A	B	C	D	E	F
1	0,5					
2	2	1				
3	4					
4	6					

23. Дан фрагмент электронной таблицы. В ней содержимое ячейки B2 рассчитано по формуле =\$A\$1\*A2. Формула скопирована из ячейки B2 в ячейку B3. Каков результат вычисления значения в ячейке B3? Запишите ответ: \_\_\_\_\_

	A	B	C	D	E	F
1	0,5					
2	2	1				
3	4					
4	6					

	A	B	C
1			
2	6	3	
3	3	2	
4	2	4	
5			

24. Дан фрагмент таблицы

В ячейку C1 ввели формулу: =ЕСЛИ((\$A\$2+B3)>7;A\$4+8;"условие не выполняется")  
 Чему будет равно значение ячейки C1 после ввода формулы?  
 Запишите ответ: \_\_\_\_\_

25. Сеть, которая объединяет компьютеры, установленные в одном помещении или одном здании, называется \_\_\_\_\_.

26. Модель данных, которая строится по принципу взаимосвязанных таблиц, называется \_\_\_\_\_.

27. Компьютерное программное обеспечение, с помощью которого операционная система получает доступ к аппаратному обеспечению некоторого устройства, называется \_\_\_\_\_.

28. Фрагмент текста, заканчивающийся нажатием клавиши \_\_\_\_\_, называется абзацем.

29. \_\_\_\_\_ - процесс установки программного обеспечения на компьютер конечного пользователя.

30. Информационная \_\_\_\_\_ – совокупность знаний, умений и навыков поиска, отбора, хранения и анализа информации, то есть всего, что включается в информационную деятельность, направленную на удовлетворение информационных потребностей.

31. Ниже представлен фрагмент электронной таблицы. Определите значение в ячейке D6.  
 Запишите ответ: \_\_\_\_\_

	A	B	C	D
1	1	4	6	=СУММ(A3:C3)
2	2	3	5	=МИН(A1:A3)
3	7	0	1	=МАКС(B1:B3)
4				=СРЗНАЧ(A2:C3)
5				=A3+C2
6				= A1+B1*3

32. Протокол IP сети используется на \_\_\_\_\_ уровне.

### ВОПРОСЫ НА УСТАНОВЛЕНИЕ СООТВЕТСТВИЯ

1. Определите соответствие между программой и ее функцией:

1	Создание презентаций	А	Microsoft Word
2	Текстовый редактор	Б	Microsoft Excel
3	Создание публикаций	В	Microsoft PowerPoint
4	Редактор электронных таблиц	Г	Microsoft Publisher

Запишите ответ:

1	2	3	4

2. Определите соответствие между комбинацией клавиш на клавиатуре и выполняемым действием:

1	Сохранить документ	А	Ctrl+Esc
2	Закрыть активное окно	Б	Ctrl+S
3	Открыть меню «Пуск»	В	Ctrl+C
4	Скопировать объект	Г	Alt+F4

Запишите ответ:

1	2	3	4

3. Определите соответствие между расширением файла и его содержанием:

1	.exe	А	Изображение
2	.jpg	Б	Текст

3	.doc	В	Музыка
4	.mp3	Г	Программа

Запишите ответ:

1	2	3	4

4. Определите соответствие между устройством и его основной функцией:

1	Ввод графической информации	А	Модем
2	Выполнение арифметических и логических операций	Б	Клавиатура
3	Подключение компьютера к сети	В	Сканер
4	Ввод текста	Г	Процессор

Запишите ответ:

1	2	3	4

5. Установите соответствие классификации информации:

1	По способу восприятия	А	Цифровая, аналоговая
2	По способу представления	Б	Массовая, специальная, личная
3	По общественному значению	В	Визуальная, звуковая, тактильная, обонятельная, вкусовая
4	По способу кодирования	Г	Текстовая, числовая, графическая

Запишите ответ:

1	2	3	4

6. Установите соответствие между единицами измерения информации и их значениями:

1	1 байт	А	4096 Килобайт
2	2 Килобайта	Б	3072 Кбайт
3	4 Мегабайта	В	2048 байт
4	3 Гигабайта	Г	4096 байт
5	3 Мегабайта	Д	8 бит



6	4 Килобайта	Е	3072 Мегабайт
---	-------------	---	---------------

Запишите ответ:

1	2	3	4	5	6

7. Установите соответствие категорий программ и их описаний:

1	Системные программы	А	Обеспечивают создание новых компьютерных программ
2	Прикладные программы	Б	Позволяют проводить простейшие расчеты и выбор готовых конструктивных элементов из обширных баз данных
3	Инструментальные системы	В	Организуют работу ПК выполняют вспомогательные функции
4	Системы автоматизированного проектирования (САД-системы)	Г	Обеспечивают редактирование текстов, создание рисунков и т.д.

Запишите ответ:

1	2	3	4

8. Установите соответствие типов файлов и обозначением расширений файлов:

1	lett.doc	А	Исполняемый файл
2	lett.exe	Б	Графический файл
3	lett.xls	В	Текстовый документ
4	lett.bmp	Г	Документ MS Word
5	lett.txt	Д	Документ MS Excel

Запишите ответ:

1				

9. Установите соответствие между названиями клавиш и их функциями:

1	F1	А	Удаляет символ справа от курсора
2	Backspace	Б	Переключает режим дополнительной
3	Delete	В	Цифровой клавиатуры

4	Num Lock	Г	Фиксирует верхний регистр алфавитной
5	Caps Lock	Д	Клавиатуры

Запишите ответ:

1	2	3	4	5

10. Установите соответствие между понятием и определением:

1	Функция	А	знак или символ, задающий тип вычисления в выражении
2	Оператор	Б	представляет собой некоторую прямоугольную область рабочего листа и однозначно определяется адресами ячеек, расположенными в диаметрально противоположных углах диапазона
3	Диапазон ячеек	В	представляет собой выражение, по которому выполняются вычисления на странице
4	Формула	Г	стандартная формула, которая выполняет определенные действия над значениями, выступающими в качестве аргументов

Запишите ответ:

1	2	3	4

11. Установите соответствие между видом адресации и примером адреса ячейки:

1	Абсолютный столбец, абсолютная строка	А	D\$6
2	Относительный столбец, абсолютная строка	Б	\$D6
3	Абсолютный столбец, относительная строка	В	D6
4	Относительный столбец, относительная строка	Г	\$D\$6

Запишите ответ:

1	2	3	4

**12. Установите соответствие:**

1	Браузер	А	WWW
2	Электронная почта	Б	Yandex
3	Поисковый сервер	В	Internet Explorer
4	Всемирная паутина	Г	Outlook Express

Запишите ответ:

1	2	3	4

**13. Установите соответствие:**

1	Память	А	Манипулятор
2	Процессор	Б	Хранение информации
3	Устройства ввода и вывода	В	Обработка информации
4	Мышь	Г	Передача информации

Запишите ответ:

1	2	3	4

**14. Установите соответствие:**

1	Локальная сеть	А	Объединение компьютеров, расположенных на большом расстоянии друг от друга;
2	Региональная сеть	Б	Объединение локальных сетей в пределах одной корпорации для решения общих задач;
3	Корпоративная сеть	В	Объединение компьютеров в пределах одного города, области, страны;
4	Глобальная сеть	Г	Объединение компьютеров, расположенных на небольшом расстоянии друг от друга.

Запишите ответ:

1	2	3	4

**15. Установите соответствие между разделами системы «Консультант-Плюс» и их функциями:**

1	Правовой навигатор	А	Собрание законов РФ
---	--------------------	---	---------------------

2	Кодексы	Б	Новости, тематические подборки, разъяснения правовых актов и практик
3	Словарь терминов	В	Поиск документов по Тематике и разделам
4	Обзоры	Г	Разъяснения часто встречающихся терминов

Запишите ответ:

1	2	3	4

16. Установите правильный порядок соответствия в таблице моделирования:





1	Моделируемый процесс	А	Мяч
2	Моделируемый объект	Б	Падение тела
3	Моделирование	В	Скорость и высота падения
4	Моделируемые характеристики	Г	Выбор значений начальных параметров для преодоления расстояния за заданное время

Запишите ответ:

1	2	3	4

Правильный ответ:


17. Укажите соответствие логотипа для всех 4 вариантов изображений:




1		А	Microsoft PowerPoint
2		Б	Microsoft Word
3		В	Microsoft Access
4		Г	Microsoft Excel

Запишите ответ:

1	2	3	4

18. Установите изображения элементов блок-схемы с их назначением:

1	Условие	А	
---	---------	---	--

2	Начало/конец алгоритма	Б	
3	Процесс	В	
4	Ввод/вывод данных	Г	

Запишите ответ:

1	2	3	4

**19.** Установите соответствие между типом файла и его расширением:

1	Текстовый файл	А	*.ppt
2	Презентация	Б	*.avi
3	Видео-файл	В	*.doc
4	Аудио-файл	Г	*.mp3

Запишите ответ:

1	2	3	4

Правильный ответ:

**20.** Установите соответствие между названием технического средства и его типом:

1	Сканер	А	Устройство хранения информации
2	Монитор	Б	Устройство передачи информации
3	Сетевая карта	В	Устройство вывода информации
4	Съемный жесткий диск	Г	Устройство ввода информации

Запишите ответ:

1	2	3	4

Правильный ответ:

21. Установите соответствие между названием объекта базы данных и его определением:

1	Запрос	А	Диалоговое окно для просмотра, ввода, редактирования данных, а также для управления ходом работы
2	Форма	Б	Документ, содержащий информацию из базы данных и предназначенный для вывода на печать
3	Отчет	В	Набор команд, описывающих действия, которые нужно выполнить
4	Макрос	Г	Обращения к базе данных для выбора нужной информации или изменения базы данных

Запишите ответ:

1	2	3	4

Правильный ответ:

22. Установите соответствия между определением и режимом отображения документа на экране:

1	Обычный	А	Перед каждым абзацем отображается символ уровня документа
2	Разметка страницы	Б	Документ отображается в специальном окне в виде страниц уменьшенного размера
3	Структура	В	Отображается только текст без элементов оформления
4	Режим чтения	Г	Экранное представление документа полностью соответствует печатному

Запишите ответ:

1	2	3	4

Правильный ответ:

23. Установите соответствия между названием программы и видом программного обеспечения:

1	Базовое ПО	А	MS Excel
2	Сервисное ПО	Б	Windows7
3	Инструментальное ПО	В	Антивирус Касперского
4	Прикладное ПО	Г	Pascal

Запишите ответ:

1	2	3	4

**24.** Установите соответствие между элементами компьютера и функциями, которые они обеспечивают:

1	Память	А	Манипулятор
2	Процессор	Б	Хранение информации
3	Устройства ввода и вывода	В	Обработка информации
4	Мышь	Г	Передача информации.

Запишите ответ:

1	2	3	4

Правильный ответ:

**25.** Установите соответствие адресов и их конкретных примеров:

1	URL - адрес	А	192.168.48.23
2	Адрес электронной почты	Б	http://www.glstar.ru/
3	IP – адрес	В	dassa@mail.ru
4	Адрес хранения информации на компьютере	Г	C:\Program Files\Internet Explorer

Запишите ответ:

1	2	3	4

Правильный ответ:

**26.** Установите соответствие между устройствами компьютера и функциями, которые они выполняют:

1	Монитор	А	Хранение информации
2	Процессор	Б	Вывод информации
3	Мышь	В	Обработка информации
4	Оперативная память	Г	Ввод информации

Запишите ответ:

1	2	3	4

Правильный ответ:

**27.** Установите соответствие между сочетаниями клавиш и их назначением:

1	Ctrl + V	А	Вырезание
2	Ctrl + C	Б	Отмена действия
3	Ctrl + X	В	Копирование
4	Ctrl + Z	Г	Вставка

Запишите ответ:

1	2	3	4

**28.** Установите соответствие между прикладной программой и типом файла, создаваемого в этой программе:

1	MS Word	А	.txt
2	Блокнот	Б	.bmp
3	Paint	В	.xls
4	MS Excel	Г	.doc

Запишите ответ:

1	2	3	4

Правильный ответ:

**29.** Установите соответствие терминов и определений Excel:



1	Ячейка	А	Документ, имеющий вид таблицы, состоящий из строк и столбцов, в которых хранятся данные.
2	Лист	Б	Файл, предназначенный для хранения электронной таблицы
3	Диапазон	В	Основной элемент электронной таблицы
4	Книга	Г	Одна или несколько прямоугольных областей ячеек

Запишите ответ:

1	2	3	4

Правильный ответ:

**30.** Установите соответствие названий диаграмм их назначению:

1	График	А	Показывает изменение данных на протяжении отрезка времени. Для наглядного сравнения различных величин используются вертикальные столбцы
2	Гистограмма	Б	Позволяет показать отношение частей к целому. Может включать несколько рядов данных.
3	Кольцевая	В	Показывает соотношения между различными частями одного ряда данных, составляющего в сумме 100%.
4	Круговая	Г	Показывает, как меняется один из показателей (Y) при изменении другого показателя (X) с заданным шагом.

Запишите ответ:

1	2	3	4

Правильный ответ:

**31.** Установите соответствие между термином и определением:

1	Сервер	А	Согласованный набор стандартных протоколов, реализующих их программно-аппаратных средств, достаточный для
---	--------	---	---

			построения компьютерной сети и обслуживания ее пользователей
2	Рабочая станция	Б	Специальный компьютер, который предназначен для удаленного запуска приложений, обработки запросов на получение информации из баз данных и обеспечения связи с общими внешними устройствами
3	Сетевая технология	В	Информационная технология работы в сети, позволяющая людям общаться, оперативно получать информацию и обмениваться ею
4	Информационно-коммуникационная технология	Г	Персональный компьютер, позволяющий пользоваться услугами, предоставляемыми серверами

Запишите ответ:

1	2	3	4

Правильный ответ:

**32.** Установите соответствие между моделями данных и их определениями:

1	Иерархическая	А	Модель данных строится по принципу взаимосвязанных таблиц
2	Сетевая	Б	Один тип объекта является главным, все нижележащие – подчиненными
3	Реляционная	В	Любой тип данных одновременно может быть главным и подчиненным
4	Объектно-ориентированная	Г	Данные моделируются в виде объектов, их атрибутов, методов и классов.

Запишите ответ:

1	2	3	4

Правильный ответ:

**33.** Установите соответствие между названием и определением программного обеспечения:

1	Программное обеспечение	А	Множество программ, которые управляют работой компьютера и организуют диалог пользователя с операционной системой
---	-------------------------	---	---

2	Операционная система	Б	Программы, используемые для работы на компьютере
3	Системное программное обеспечение	В	Программы, обеспечивающие работу компьютера и всех его устройств как единой системы
4	Прикладное программное обеспечение	Г	Программы, используемые для работы в конкретной человеческой деятельности

Запишите ответ:

1	2	3	4

Правильный ответ:

35. Установите соответствие между названиями и средствами телекоммуникационных технологий:

1	Yahoo!	А	Поисковый электронный каталог-классификатор
2	Google Chrome	Б	Медийно-сервисный интернет-портал
3	Рамблер	В	Браузер
4	Нигма	Г	Поисковая система

Запишите ответ:

1	2	3	4

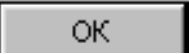
Правильный ответ:

### **ВОПРОСЫ НА УСТАНОВЛЕНИЕ ПОСЛЕДОВАТЕЛЬНОСТИ ДЕЙСВИЙ**

1. Установите последовательность запуска программы MS PowerPoint 2013:
  - а. Главное меню
  - б. Программы
  - в. Microsoft Power Point
  - г. Пуск
  
2. Установите последовательность установления нестандартных значений полей для нового документа в редакторе MS Word 2013:
  - а. Выбрать вкладку «Разметка страницы»
  - б. Выбрать группу команд команду «Параметры страницы»
  - в. Выбрать команду «Настраиваемые поля»
  - г. Выбрать функцию «Поля»
  
3. Установите последовательность перемещения фрагмента текста в MS Word 2013:

- а. Щелчок по кнопке «Вырезать» панели инструментов «Главная»
- б. Выделить фрагмент текста
- в. Щелчок по кнопке «Вставить» панели инструментов «Главная»
- г. Щелчком отметить место вставки

4. Укажите последовательность создания нумерации страниц в текстовом редакторе MS Word:

- а. Указать положение и выравнивание символа номера страницы
- б. Нажать 
- в. Выбрать команду «Номер страницы»
- г. Открыть меню «Вставка»

5. Расположите в правильной последовательности основные этапы разработки базы данных:

- а. Определение последовательности выполнения задач
- б. Уточнение решаемых задач
- в. Определение структуры данных
- г. Анализ данных

6. Установите в хронологической последовательности этапы развития информационных технологий:

- а. «Электронная» технология
- б. «Механическая» технология
- в. «Ручная» технология
- г. «Компьютерная» технология
- д. «Электрическая» технология

7. Укажите в порядке возрастания объемы памяти:

- а. 20 бит
- б. 10 бит
- в. 2 байта
- г. 1010 байт
- д. 1 Кбайт

8. Укажите в правильной последовательности действия при создании папки на Рабочем столе:

- а. Щёлкнуть правой клавишей мыши
- б. Ввести имя папки в поле ввода подписи
- в. Выбрать команду создать – папка

9. Установите последовательность этапов процесса создания базы данных:

- а. Определение связей между таблицами.
- б. Усовершенствование структуры базы данных
- в. Определение необходимых в таблице полей.
- г. Ввод данных и создание других объектов базы данных.
- д. Определение полей с уникальными значениями в каждой записи.
- е. Определение цели создания базы данных
- ж. Определение таблиц, которые должна содержать база данных

10. Укажите последовательность установки формата чертежа:

- а. Чертеж
- б. Файл
- в. Сервис

- г. Создать
- д. Формат
- е. Параметры листа
- ж. Параметры
- з. Текущий чертеж
- и. Ок

**11.** Установите последовательность действий при осуществлении контекстного поиска информации в сети Интернет:

- а. Открыть Интернет-браузер
- б. Выбрать необходимую страницу из предложенных
- в. Включить компьютер
- г. Ввести запрос в поисковую строку

**12.** Установите последовательность действий при установке полей в MS Word:

- а. Изменить числовые значения
- б. Нажать клавишу enter
- в. Выполнить двойной клик левой кнопкой по линейке разметки
- г. Открыть документ

**13.** Установите последовательность действий при осуществлении копирования объекта с флэш-накопителя на рабочий стол:

- а. Захватить объект и перетащить
- б. Подключить флэш-накопитель
- в. Включить компьютер
- г. Открыть флэш-накопитель и проложить маршрут

**14.** Установите последовательность действий при осуществлении удаления группы объектов:

- а. Подтвердить удаление клавишей Enter
- б. Проложить маршрут к объекту
- в. Нажать клавишу Delete
- г. Выделить группу объектов

**15.** Установите последовательность действий при создании текстового документа в папке:

- а. Присвоить имя документу
- б. Проложить маршрут в нужную папку
- в. В списке выбрать строку «Создать» и «Документ word»
- г. Открыть контекстное меню

**16.** Укажите правильную последовательность поколений ЭВМ:

- а. Микропроцессорные ЭВМ
- б. Ламповые ЭВМ
- в. ЭВМ на интегральных схемах
- г. Транзисторные ЭВМ

**17.** Установите последовательность этапов моделирования:

- д. Постановка задачи
- е. Анализ результатов моделирования
- ж. Разработка модели
- з. Компьютерный эксперимент

**18.** Расположите устройства в порядке возрастания скорости обмена информацией:

- а. Твердотельный диск
- б. Жесткий диск
- в. Кэш-память процессора
- г. Оперативная память

**19.** Укажите последовательность действий для работы с файлом, который не открывается с помощью программ, установленных на компьютере:

- а. Загрузить дистрибутив программы
- б. Запустить браузер для доступа к сети Интернет
- в. Произвести инсталляцию программы на персональный компьютер
- г. Используя поисковые системы найти информацию о нужной программе

**20.** Укажите последовательность этапов создания программы для решения конкретной задачи:

- а. Постановка задачи
- б. Разработка алгоритма
- в. Построение математической модели
- г. Программирование
- д. Отладка программы
- е. Анализ результатов
- ж. Проведение расчетов

**21.** Расположите в иерархическом порядке уровни памяти:

- а. Внешняя память (ВЗУ)
- б. Основная память (ОП)
- в. Регистровая кэш-память
- г. Микропроцессорная память (МПП)

**22.** Установите единицы измерения объема информации по возрастанию:

- а. Бит
- б. Мегабит
- в. Мегабайт
- г. Килобайт

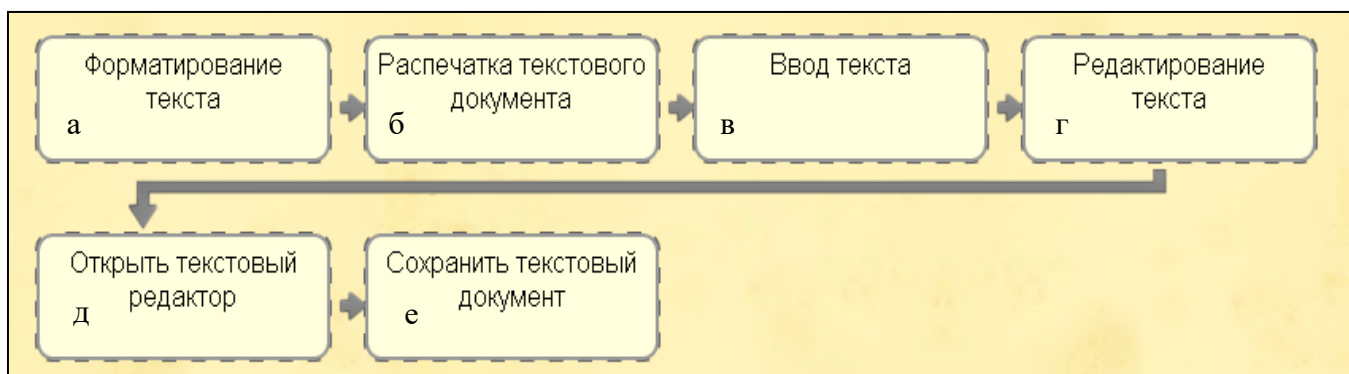
**23.** Установите правильную последовательность действий для вычисления данных по формуле в MS Excel:

- а. Нажать кнопку «Enter»
- б. Выделить ячейку
- в. Ввести формулу
- г. Ввести знак =

**24.** Установите правильную последовательность при создании диаграммы в MS Excel:

- а. выбрать вкладку «вставка»
- б. создать таблицу с исходными данными
- в. выбрать тип диаграммы
- г. выделить диапазон ячеек таблицы

25. Расставьте по порядку основные этапы подготовки текстового документа на компьютере:



26. Укажите последовательность этапов построения диаграммы в MS Excel с помощью мастера

- Выбор типа диаграммы
- Настройки заголовков, осей, линии сетки, легенды, подписей и таблицы данных
- Выбор расположения диаграммы
- Выбор или уточнение источника данных

27. Укажите путь создания папки:

- В строке меню папки выбрать Новая папка
- В контекстном меню окна папки выбрать команду создать папку
- Открыть папку
- Перейти на рабочий стол или открыть окно папки

28. Расположите носители информации по увеличению их возможной емкости

- Blu-ray Disc
- CD
- флеш-накопитель 16 ГБ
- DVD
- HDD

29. Мера цифровой информации в порядке увеличения:

- 1Терабайт
- 100Гигабайт
- 100Килобайт
- 1Мегабайт

30. Укажите последовательную цепочку элементов, образующую URL-адрес информационного ресурса:

- Имя каталога, в котором содержится нужный файл
- Адрес сервера
- Протокол
- Имя файла

31. Укажите последовательную цепочку элементов, образующую адрес электронной почты:

- Имя пользователя
- Символ @
- Домен
- Имя почтового сервера.

